

平成 15 年度 **長崎国際大学入学試験問題**
 特待生入試・一般学力 2 月入試
地 理 B (100 点 60 分)

注 意 事 項

- 1 試験開始の合図があるまで、この問題冊子の中を見てはいけません。
- 2 この問題冊子は、16ページあります。
 試験中に問題冊子の印刷不鮮明、ページの落丁・乱丁および解答用紙の汚れ等に気付いた場合は、手を挙げて監督者に知らせなさい。
- 3 解答用紙には解答欄以外に次の記入欄があるので、監督者の指示に従って、それぞれ正しく記入し、マーク（●印）しなさい。
 - ① 受験番号欄
 受験番号（数字）を記入しなさい。
 正しく記入されていない場合は、採点できないことがあります。
 - ② 氏名欄
 氏名・フリガナを記入しなさい。
 - ③ 志望学科欄， 解答科目欄， 試験会場欄
 該当する欄にマーク（●印）しなさい。
- 4 解答は、解答用紙の解答欄にマーク（●印）しなさい。例えば 10 と表示されてある問いに対して③と解答する場合は、次の（例）のように**解答番号 10** の**解答欄**の③の欄に**マーク（●印）**しなさい。

（例）

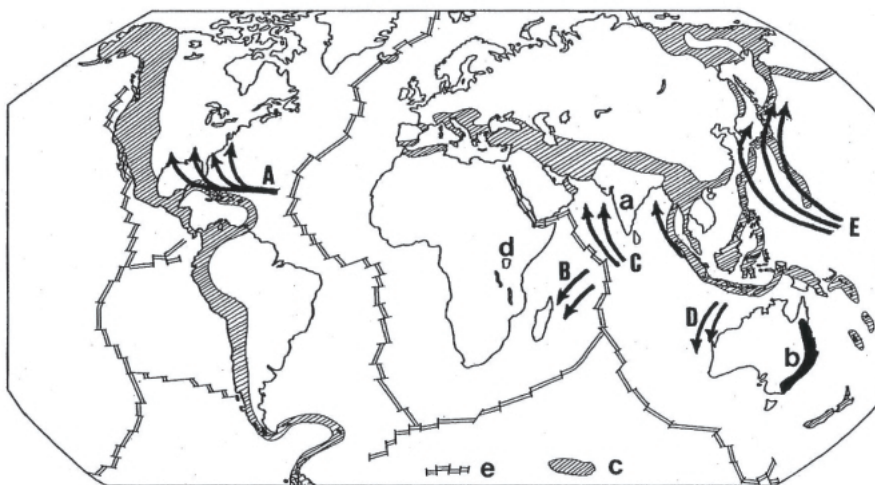
解 答 番 号	解 答 欄				
	①	②	③	④	⑤
10			●		

- 5 問題冊子の余白等は適宜利用してよいが、どのページも切り離してはいけません。
- 6 試験終了後、問題冊子は机上に残しておきなさい。

地 理

(解答番号 ~)

第1問 地球の自然環境について、下の問い(問1~10)に答えよ。



問1 プレートテクトニクス理論について、**誤った説明をしているものを**、次の ~ のうちから一つ選べ。

1912年に、ドイツの地球物理学者ケッペンは、現在の諸大陸がかつてパンゲアと呼ばれる一つの大陸であり、何らかの営力で移動したことを提唱した(大陸移動説)。

1950年代以降の古磁気学や海底地質学の分野における研究成果から、地球の表面をおおう板状の岩盤(プレート)を、地球内部のマントルの対流現象によって移動させていることが立証された。

日本列島には、太平洋・北アメリカ・フィリピン海・ユーラシアの4つのプレートが接している。

プレートの境には火山が多く、地震多発地帯でもある。

日本の本州を二分するプレートの境は、フォッサマグナと呼ばれている。

問 2 古生代から中生代にかけて存在したゴンドワナ大陸の一部で、安定陸塊が大部分を占め、平均高度 340m の台地地形である地域を、次の ~ のうちから一つ選べ。

2

アラビア半島	ニューギニア島	アフリカ大陸
グリーンランド	オーストラリア大陸	

問 3 地図中記号 a はインドにみられる安定陸塊である。この地域の高原名を、次の ~ のうちから一つ選べ。 **3**

チベット高原	パミール高原	アナトリア高原
デカン高原	シャン高原	

問 4 地図中記号 b は古期造山帯に属する山脈である。その山脈名を、次の ~ のうちから一つ選べ。 **4**

アパラチア山脈	ペニン山脈
クンルン山脈	スカンディナ비아山脈
グレートディバイディング山脈	

問 5 地図中記号 c は新期造山帯であるが、この造山帯に属さない山脈・列島名を、次の ~ のうちから一つ選べ。 **5**

ウラル山脈	アルプス山脈	アトラス山脈
アンデス山脈	アリューシャン列島	

問 6 地図中記号 d の湖はアフリカ大地溝帯の構造湖である。この湖名を、次の ~ のうちから一つ選べ。 **6**

マラウイ湖	ビクトリア湖	チャド湖
タンガニーカ湖	ボルタ湖	

地 理

問7 地図中記号 e は海嶺であるが、誤った説明をしているものを、次の ~ のうちから一つ選べ。

- 水深 6,000m 以上の狭長な深海である。
- 急斜面であり、起伏の多い地形である。
- 地震活動が盛んである。
- プレートの境である。
- 大洋底にそびえる山脈状の高まりである。

問8 地図中記号 A ~ E は熱帯低気圧を示すが、その記号と名称の正しい組合せを、次の ~ のうちから一つ選べ。

- A - サイクロン
- B - ハリケーン
- C - 台風
- D - ウィリーウィリー
- E - サイクロン

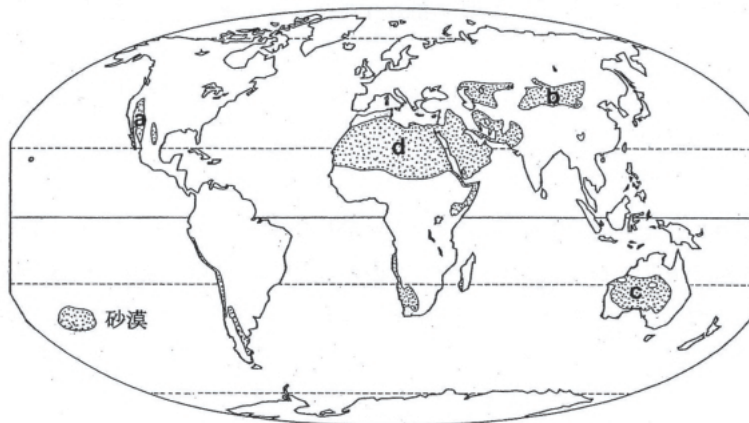
問9 世界は、地形・気候などの自然環境に適応した人間の生活様式（衣・食・住・宗教・言語など）の差異によって地域区分されることが多い。文化圏名と国名との正しい組合せを、次の ~ のうちから一つ選べ。

- イスラム - セネガル
- スラブ - デンマーク
- 東アジア - ミャンマー
- アングロアメリカ - バハマ
- オセアニア - モルディブ

問10 太平洋には多数の島嶼が点在するが、オセアニアの島嶼を先住民の人種的、文化的特色により 3 領域に区分できる。そのうち「黒い島々」を意味する領域を、次の ~ のうちから一つ選べ。

- インドネシア
- ミクロネシア
- メラネシア
- ポリネシア
- オーストロネシア

第2問 砂漠の自然と生活について、下の問い(問1～10)に答えよ。



問1 地図中記号 a の砂漠名と国名の正しい組合せを、次の ~ のうちから一つ選べ。

11

- | | |
|-----------------|------------------|
| ナミブ砂漠 - インド | モハーベ砂漠 - アメリカ合衆国 |
| タール砂漠 - エジプト | タクラマカン砂漠 - チリ |
| ネフド砂漠 - アフガニスタン | |

問2 地図中記号 b の砂漠では、3月から6月にかけて地表の砂塵が強風に吹き上げられて空気が濁り、視界が1km以下になる現象が生じる。この砂塵が3～4月にかけて西日本地方に飛来する。これは何と呼ばれるものか、次の ~ のうちから一つ選べ。

12

- | | | |
|-------|-------|------|
| トルネード | シロッコ | スホベイ |
| 黄砂 | ブリザード | |

問3 地図中記号 c の砂漠には世界最大の一枚岩がある。その岩の名称を、次の ~ のうちから一つ選べ。

13

- | | | |
|---------|-----------|---------|
| オルガ山 | シナイ山 | エアーズロック |
| マッターホルン | モニュメントバレー | |

問 4 地図中記号 **d** の砂漠の南縁地域では、砂漠化が進行している。東西に細くのびるこの地域の名称を、次の ~ のうちから一つ選べ。 14

ツンドラ	パンパ	ベルト
セルバ	サヘル	

問 5 地図中記号 **d** の砂漠では、扇状地の伏流水を利用するために、扇端の集落に通じる地下式用水路を設けているところがある。この地下式用水路名は各地で名称が異なるが、この砂漠地域では何と呼ばれているか、次の ~ のうちから一つ選べ。

15

カレーズ	フォガラ	カンアルチン
ワジ	カナート	

問 6 砂漠は地表の状態から、砂砂漠・礫砂漠・岩石砂漠の 3 つに分類される。これらを全砂漠面積に占める割合の大きい順に並べるとどれが正しいか、次の ~ のうちから一つ選べ。 16

砂砂漠 > 礫砂漠 > 岩石砂漠	砂砂漠 > 岩石砂漠 > 礫砂漠
礫砂漠 > 砂砂漠 > 岩石砂漠	礫砂漠 > 岩石砂漠 > 砂砂漠
岩石砂漠 > 礫砂漠 > 砂砂漠	

問 7 砂漠を流れる外来河川ではないものを、次の ~ のうちから一つ選べ。

17

ナイル川	コロラド川
インダス川	コンゴ川
ティグリス・ユーフラテス川	

問 8 砂漠の生活環境について、誤った説明をしているものを、次の ~ のうちから一つ選べ。 18

砂漠の気温は日較差が大きく、最低気温が 0 以下になるところもある。

砂漠は降水量が極めて少ないため、動物は生息できない。

アラビア半島には、ベドウィンと呼ばれる遊牧民が古くから生活している。

砂漠の遊牧民の伝統的生活様式は、らくだ・やぎ・羊などの家畜を飼育して、バター・チーズ・毛皮などを生産し、換金する。

地下水が豊富にある砂漠では、スプリンクラーを用いた灌漑農業を行っているところもある。

問 9 オアシスについて、誤った説明をしているものを、次の ~ のうちから一つ選べ。 19

オアシスは地下水がわき出したり、川のほとりなど砂漠で淡水が得られるところをいい、そこには集落が形成されている。

オアシスの集落規模は、得られる水の量で決まる。

灌漑農業が可能なので、らくだは飼養していない。

農作物は、なつめやし・小麦・ぶどう・野菜などが栽培されている。

出かせぎ農民がふえて現金収入が増加し、自動車を購入する農家もある。

問 10 砂漠化の原因について、誤った説明をしているものを、次の ~ のうちから一つ選べ。 20

オゾン層の破壊によって、地球全体の降水量が減少している。

砂丘の移動によつて集落や耕地の埋没が生じる。

林地における薪炭材の過剰採取が行われている。

家畜の過放牧によって、植物の再生が不可能になる。

不適切な灌漑によって塩害を引き起こし、耕地の荒廃化が進む。

第3問 メキシコ人の文化と生活について、下の問い(問1~10)に答えよ。

独特のラテンアメリカ社会

- ・ 伝統のインディオ文化 + スペイン文化
- ・ メキシコ人の構成

[スペイン系白人とインディオの混血] …… 60%

白 人 …… 15%

インディオ …… 25%

- ・ 経済格差

白 人 …… 社会の中枢支配

インディオ …… 社会の底辺=失業者が多い

- ・ 宗 教 ……

メキシコ人の生活

- ・ スペイン風を尊ぶ
- ・ 昼食後のシェスタの習慣
- ・ 主食はトルティーヤと (料理)

問1 文中の空欄 に入れるのに最も適当なものを、次の ~ のうちから一つ
選べ。

ムラート

サンボ

クリオーリョ

メスチーソ

ヒスパニック

問2 文中の空欄 に入れるのに最も適当なものを、次の ~ のうちから一つ
選べ。

イスラム教

ヒンドゥー教

キリスト教(プロテスタント)

キリスト教(カトリック)

ユダヤ教

問3 文中の空欄 に入れるのに最も適当なものを，次の ~ のうちから一つ選べ。

タコス	チャパティ	チャーハン
カレー	タロいも	

問4 メキシコが300年にわたってスペインに支配されていた年次を，次の ~ のうちから一つ選べ。

1310～1610年	1411～1711年	1521～1821年
1600～1900年	1645～1945年	

問5 スペインに征服される以前に栄えていた旧メキシコの国名を，次の ~ のうちから一つ選べ。

アステカ帝国	インカ帝国	ムガル帝国
チムー王国	ビザンツ帝国	

問6 スペインのメキシコ植民地獲得の当初目的であった産物を，次の ~ のうちから一つ選べ。

香辛料	カカオ・コーヒー	石油・石炭
鉄鉱・銅鉱	金・銀	

問7 農作物の原産がメキシコではないものを，次の ~ のうちから一つ選べ。

とうもろこし	とうがらし	さつまいも
トマト	かぼちゃ	

問 8 植民地時代の大地所有制度アシェンダについて、**誤った説明をしているものを**、次の ~ のうちから一つ選べ。 28

17 世紀に成立した。

数千 ha の農地をもつ大農園で、農民の 96% が農奴であった。

大地主は行政や司法の権限をもっていた。

1911 ~ 17 年の農地改革によって、350ha 以上の農地所有が禁止された。

農地改革では、農奴の解放と農民たちへ農地の公平分配が行われた。

問 9 シェスタについて、**誤った説明をしているものを**、次の ~ のうちから一つ選べ。 29

スペインをはじめラテン民族の生活習慣である。

1 日の労働時間を午前と午後に 2 区分し、その間を休憩時間とする。

休憩時間は約 3 時間である。

休憩時間は自宅に戻り、昼食後昼寝をしたりして休息する。

学校にかよっている子供たちは、帰宅しない。

問 10 マキラドーラについて、**誤った説明をしているものを**、次の ~ のうちから一つ選べ。 30

1965 年以降メキシコで発展した保税輸出加工工業のことであり、雇用と輸出の拡大を目的として特別に設置した工業地帯である。

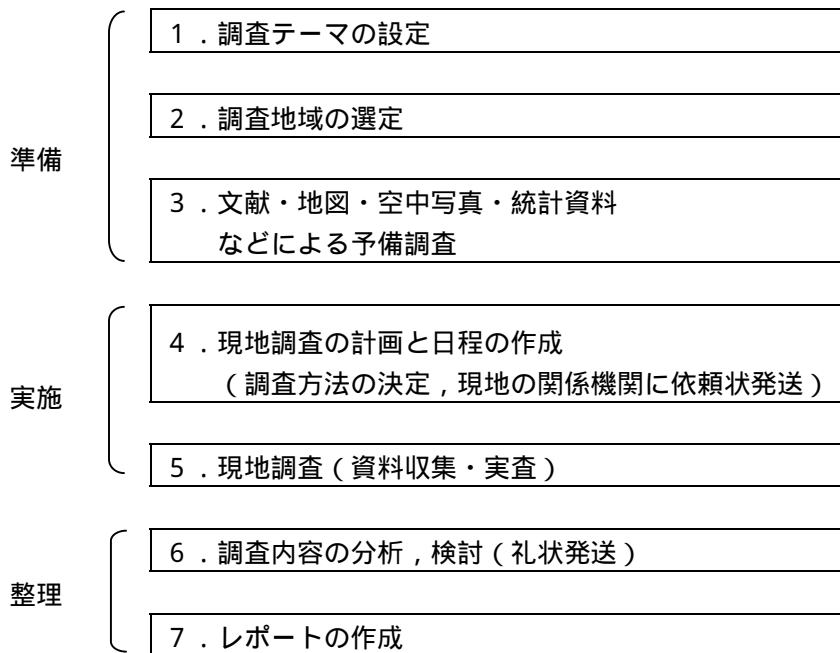
メキシコ国内で加工し、再輸出することを前提とした原材料の輸入に対する関税が優遇される。

元来は、水車や風車を用いて製粉や搾油の作業を行う人を意味する。

メキシコとアメリカ合衆国の国境の両側に、同一企業が工場を設立し、資本集約的作業はメキシコ工場、労働集約的作業はアメリカ工場で処理する。

国境をはさんで多数の双子都市が形成された。

第4問 地域調査の進め方について、下の問い(問1～10)に答えよ。



問1 地域調査のテーマとして**適当ではないもの**を、次の ~ のうちから一つ選べ。

31

- | | | |
|---------|---------|--------|
| 人口の推移 | 土地利用の変化 | 狂牛病の原因 |
| 観光施設の分布 | 農産物の出荷先 | |

問2 調査地域の選定方法として、**誤った説明をしているもの**を、次の ~ のうちから一つ選べ。 32

- 調査テーマを反映できる地域を選ぶ。
- グループ調査か個人調査かを考えに入れる。
- 調査の費用・時期・期間を考慮し、日帰り可能な地域を選ぶ。
- 調査の対象や視点を明確にしておく。
- 調査地域の候補を複数あげ、そのうちから最適な地域を選定する。

問3 文献に**該当しないもの**を、次の ~ のうちから一つ選べ。 33

学術図書	学術論文	官公庁の白書
新聞	動植物などの図鑑	

問4 地域調査に用いる地図として**適当ではないもの**を、次の ~ のうちから一つ選べ。 34

道路地図	世界地図	住宅地図
地形図	土地利用図	

問5 空中写真の利用方法として**適当ではないもの**を、次の ~ のうちから一つ選べ。 35

魚群の把握	都市化の把握	地形の把握
植生の把握	土地利用の把握	

問6 観光客調査に用いる道具として**該当しないもの**を、次の ~ のうちから一つ選べ。 36

カメラ	方位指示器	調査票
カウンター（数取器）	クリップボード（画板）	

問7 現地調査の方法として**適当ではないもの**を、次の ~ のうちから一つ選べ。 37

アンケート	憶測	観察・視察
測定	聞き取り	

問8 調査内容の分析方法として**適当ではないもの**を、次の ~ のうちから一つ選べ。

38

表表現

グラフ表現

地図表現

旅行記表現

フロー（流れ図）表現

問9 レポートの作成方法として**適当ではないもの**を、次の～のうちから一つ選べ。

39

はじめに調査の目的・方法を明記する。

調査で明らかになった事実を記述する。

説明に必要な図・表・写真などを掲載する。

調査結果の分析をもとに、自分たちの考えを述べる。

全体のまとめは、調査の感想のみにとどめる。

問10 報告会について**誤った説明をしているもの**を、次の～のうちから一つ選べ。

40

グループ全員が、分担して報告することもよい。

必要に応じて、スライド・OHP・パワーポイントなどの器具を使って説明すると説得力がある。

自分たちの予測や考え方に、見落としがあったことに気づくことがある。

質問に対しては、誠意をもって答える。

意見に対する反論は、相手に失礼になるのでさける。

第5問 次の会話文は、2人の高校生が大学受験に備えて地理の問題を出し合っている内容である。下の問い(問1～10)に答えよ。

I:「まずは、ぼくから問題を出すよ。“山地の一方が断層による急斜面をなし、他方が緩傾斜をなす地形を何というか?”」

M:「いきなり難しい問題だね。これは、だよ。」

I:「正解!やるね。次は気候の問題だ。では、“気温・降水量・風など、気候を構成するさまざまな大気現象を何というか?”」

M:「これは簡単さ。だよ。基本的な問題だね。」

I:「ちょっとやさしかったかな。そのとおり。3問目は地理学者の名前だ。“自然環境は人間社会を規定するものではなく、単に可能性を与えるものにすぎないとする環境可能論を唱えた地理学者は誰か?”」

M:「だと思うよ。確かに。」

I:「お見事!正解だ。よく知っているね。次は人口ピラミッドの種類についてだ。“人口増加の停滞傾向を示す少産少死型の人口ピラミッドは、通称何型と呼ばれているか?”」

M:「うーん。難しいね。だ。」

I:「正解だよ。順調に解答しているね。さて、5問目いくよ。“地中海式農業地域であり、コルクがしの生産が多いイベリア半島の台地を何というか?”」

M:「地方名の問題だね。ここはと呼ばれる地方だ。」

I:「実に素晴らしい。5問全問正解だ。今度は、M君が問題を出してよ。」

M:「OK。6問目からはぼくが出題するよ。では、“炭素分が75～90%の石炭であり、燃えつきやすく火力も強い。製鉄やタール製造などに用いられるこの石炭の種類は何か?”」

I:「これは難しい問題だね。でも、これは知っているさ。だよ。」

M:「なかなか君もできるね。次は村落の問題だ。“家屋が一戸ずつ点在する村落形態を何というか?”」

I:「都市と村落の問題については得意だよ。というんだよ。」

M:「正解!それでは今度は都市の問題だ。“大都市の周辺に分布し、中心都市の機能の一部を分担する中小都市を何というか?”」

I:「と呼ばれ、東京・大阪・名古屋の三大都市圏にみられるよ。」

M : 「さすがだね。よく知っているよ。さて、次の問題はどうか。 “ 有事の際にも、他
国からの不可侵を国際的に保障されている国家を何というか？ ”」

I : 「これも簡単！ 49 と呼ばれる国だよ。」

M : 「そのとおりだ。ところで、地理の先生が授業で話されていたけど、国際化社会の現在、
多くの (a) 国際機関 が組織されているので、これも勉強しておく必要があるね。」

I : 「そうだね。お互い合格めざしてしっかり勉強しよう。」

問 1 文中の空欄 41 に入れるのに最も適当なものを、次の ~ のうちから一
つ選べ。

向斜 断層崖 地罫 傾動地塊 地溝

問 2 文中の空欄 42 に入れるのに最も適当なものを、次の ~ のうちから一
つ選べ。

気候風土 気候要素 気候因子 気候区分 気候環境

問 3 文中の空欄 43 に入れるのに最も適当なものを、次の ~ のうちから一
つ選べ。

リッター ラツツェル ブラーシュ
フンボルト リヒトホーフェン

問 4 文中の空欄 44 に入れるのに最も適当なものを、次の ~ のうちから一
つ選べ。

富士山型 つぼ型 つりがね型 星型 ひょうたん型

問 5 文中の空欄 45 に入れるのに最も適当なものを、次の ~ のうちから一
つ選べ。

メセタ プスタ ケスタ ハイデ メサ

問 6 文中の空欄 **46** に入れるのに最も適当なものを，次の ~ のうちから一つ選べ。

無煙炭	強粘結炭	褐炭
泥炭	瀝青炭	

問 7 文中の空欄 **47** に入れるのに最も適当なものを，次の ~ のうちから一つ選べ。

孤立荘宅	塊村	小村
枝村	散村	

問 8 文中の空欄 **48** に入れるのに最も適当なものを，次の ~ のうちから一つ選べ。

田園都市	衛星都市	副都心
連接都市	ベッドタウン	

問 9 文中の空欄 **49** に入れるのに最も適当なものを，次の ~ のうちから一つ選べ。

保護国	緩衝国	永世中立国
従属国	君主国	

問 10 下線(a)について，国際機関の名称とその略称の正しい組み合わせを，次の ~ のうちから一つ選べ。 **50**

世界貿易機関 - WTO	世界保健機関 - WMO
国際通貨基金 - ILO	国際労働機関 - IMF
国連児童基金 - UNESCO	

平成15年度 長崎国際大学入学試験

特待生 一般学力入試

< 解答 >

地理B

地理B(解答番号 1 ~ 50)

解答番号	解答	解答番号	解答
1	1	26	5
2	5	27	4
3	4	28	5
4	5	29	5
5	1	30	4
6	2	31	3
7	1	32	3
8	4	33	4
9	1	34	2
10	3	35	1
11	2	36	2
12	4	37	2
13	3	38	4
14	5	39	5
15	2	40	5
16	5	41	4
17	4	42	2
18	2	43	3
19	3	44	3
20	1	45	1
21	4	46	5
22	4	47	5
23	1	48	2
24	3	49	3
25	1	50	1